

**Демоверсия  
республиканской контрольной работы  
по учебному предмету «История Беларуси»  
(X класс, 2022/2023 учебный год)**

**Инструкция для учащихся**

На выполнение контрольной работы отводится 45 минут.

Ваши ответы на вопросы и задания должны быть записаны в «Бланке ответов», прилагаемом к условиям заданий.

Выполнять задания контрольной работы можно в любом порядке. Если не знаете, как выполнить задание, пропустите его и переходите к следующему.

При наличии времени после выполнения всей контрольной работы можно вернуться к пропущенным заданиям.

Не разрешается пользоваться средствами хранения и передачи информации (учебными пособиями, рабочими тетрадями, атласами, электронными устройствами).

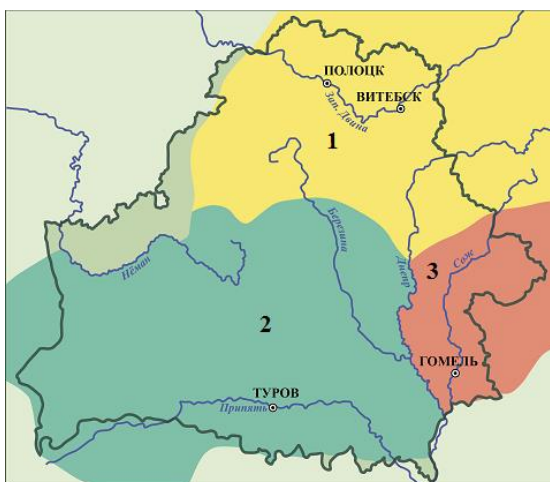
Желаем успеха!

**Задание 1.**

**А. Определите важнейшее изменение в хозяйственной жизни древних людей, характерное для каменного века. Запишите в «Бланк ответов» цифру правильного ответа.**

1) Появление керамической посуды; 2) распространение пашенного земледелия; 3) разработка болотных месторождений железной руды; 4) возникновение городищ.

**Б. На карте цифрами указаны территории Беларуси, заселённые восточнославянскими племенами к концу VIII в. Определите на карте территорию расселения кривичей. Запишите в «Бланк ответов» цифру правильного ответа.**

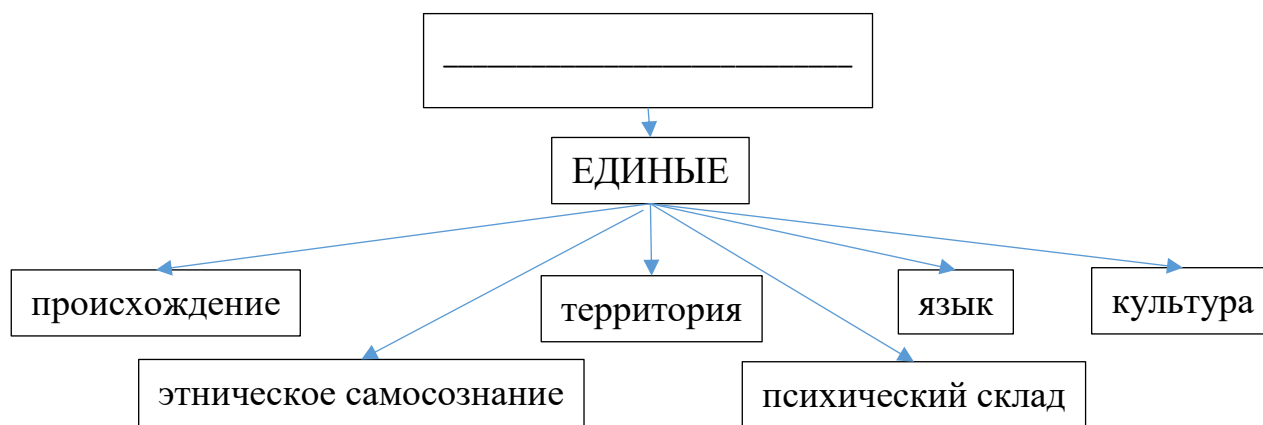


## Задание 2.

А. В 2018 г. белорусские археологи доказали, что первые славяне появились на юге Беларуси уже в IV – V вв. на территории от Бреста до Мозыря. Определите с помощью хронологической таблицы, к какому периоду истории относится данный факт. Запишите в «Бланк ответов» название периода.

Продолжительность периода	Название периода
100 тыс. лет назад – 10 тыс. лет до н.э.	Палеолит
IX – V тыс. лет до н.э.	Мезолит
конец V – конец III тыс. лет до н.э.	Неолит
II тыс. до н.э. – VIII в. до н.э.	Бронзовый век
VII в. до н.э. – конец V в.	Железный век
конец V – IX в.	Раннее средневековье
X – XIII вв.	Высокое средневековье
XIV – XV вв.	Позднее средневековье

Б. Проанализируйте признаки исторического понятия, представленные в схеме, и определите данное понятие. Запишите в «Бланк ответов» данное понятие.



## Задание 3.

А. Установите правильную хронологическую последовательность событий. Запишите правильный ответ в «Бланк ответов». Например, 4 2 3 1

1. Признание киевским князем Туровского княжества вотчиной Юрия Ярославича.
2. Начало формирования Киевской Руси.
3. Правление в Полоцке Рогволода.
4. Съезд князей в г. Любече, положивший начало раздробленности земель Киевской Руси.

**Б. Прочитайте отрывок исторического документа. Найдите в нём ответы на предложенные вопросы. Запишите их в «Бланк ответов».**

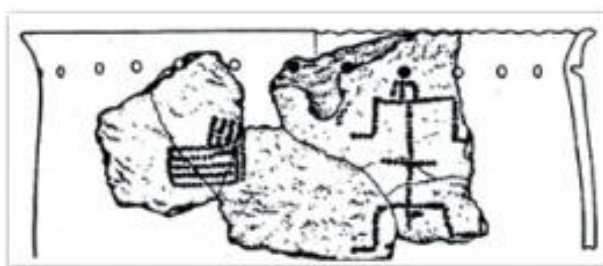
«В год 6492 (984). Пошёл Владимир на радимичей. Был у него воевода Волчий Хвост; и послал Владимир Волчьего Хвоста вперёд себя, и встретил тот радимичей на реке Пищане, и победил радимичей Волчий Хвост. Поэтому и дразнят русские радимичей, говоря: «Пищанцы от волчьего хвоста бегают». Были же радимичи от рода ляхов, пришли и поселились тут и платят дань Руси...»

1) Каким способом князь Владимир подчинил радимичей?

2) Какие слова в документе свидетельствуют о том, что радимичи подчинились князю Владимиру?

3) В документе использованы два вида датирования исторического события: от Сотворения мира и от Рождества Христова. Определите, сколько лет составляет разница между двумя системами летоисчисления. Вспомните дату битвы на реке Немига и запишите её в двух системах летоисчисления: от Рождества Христова и от Сотворения мира.

**4. Рассмотрите иллюстрацию с изображением археологической находки. Определите два правильных утверждения, связанных с данной находкой. Объясните свой выбор ответа. Запишите правильный ответ в «Бланк ответов». Например, а - ..., б - ... (с объяснением своего выбора ответа).**



Изобразительная композиция на неолитическом горшке (д. Юровичи)

а) Данная находка свидетельствует о том, что основным занятием древних людей в период изготовления горшка была охота.

б) Данная находка свидетельствует о том, что в каменном веке у древних людей существовало искусство.

в) Данная находка свидетельствует о том, что в период изготовления горшка у древних людей существовало производящее хозяйство.


г) Данная находка свидетельствует о том, что в период изготовления горшка древние люди использовали орудия труда из металлов.

**5. С опорой на фрагмент исторического документа, изображение памятной монеты «Всеслав Полоцкий» и карту назовите не менее трех результатов деятельности полоцкого князя Всеслава Брючиславовича (Чародея), которые позволяют считать его одним из наиболее выдающихся правителей на белорусских землях. Подтвердите своё мнение информацией из представленных источников. Запишите свои ответы в «Бланк ответов».**

[...] Бросил Всеслав жребий о девице, ему милой.  
Он, подпершись клюками, сел на коня,  
Поскакал ко граду Киеву  
И коснулся древком копья до золотого престола  
Киевского.



Лютым зверем в полночь поскакал он из Белграда,  
Синею мглою обвешенный,  
К утру ж, вонзивши стрикузы, раздвигнул врата Новугороду,  
Славу расшиб Ярославову,  
Волком помчался с Дудуток к Немизе...



[...] Князь Всеслав людей судил,  
Князьям он рядил города,  
А сам в ночи волком рыскал;  
До петухов он из Киева успевал к Тьмуторокани,  
К Херсоню великому волком он путь перерыскивал.  
Ему в Полоцке рано к заутрени зазвонили.  
В колокола у святых Софии,  
В колокола у святых Софии,  
А он в Киеве звон слышал!

*(Фрагмент из «Слова о полку Игореве» (в переводе с древнерусского В. Жуковского))*

## Белорусские земли в XI в.

